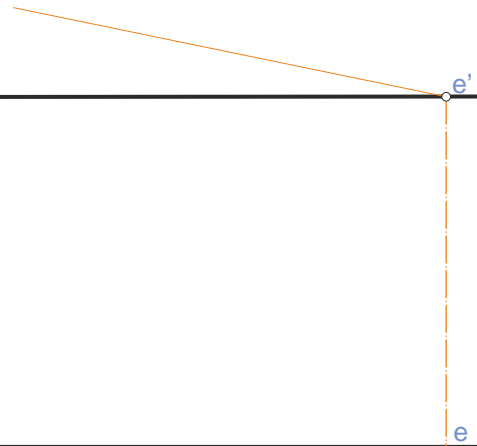
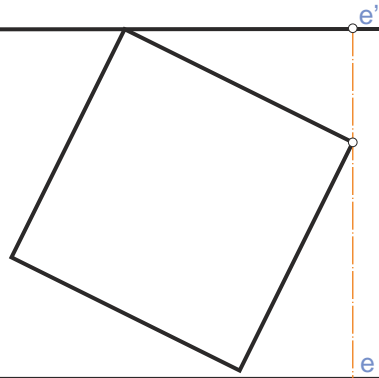


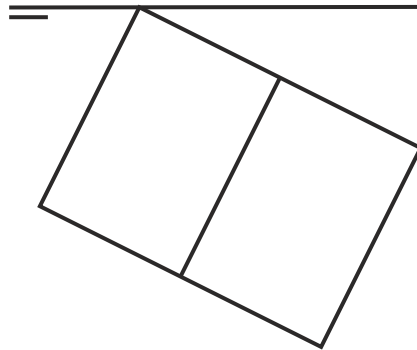
HEXAEDRO.
 1. Apoyado en una cara.
 Dibujar alzado.
 2. Girado sobre eje horizontal.
 Dibujar planta y alzado.

①

②



HEXAEDRO apoyado en una arista.
 Dibujar perspectiva. Hallar alzado y perfil.



HEXAEDRO apoyado en un vértice.
 Hallar alzado y perfil.

