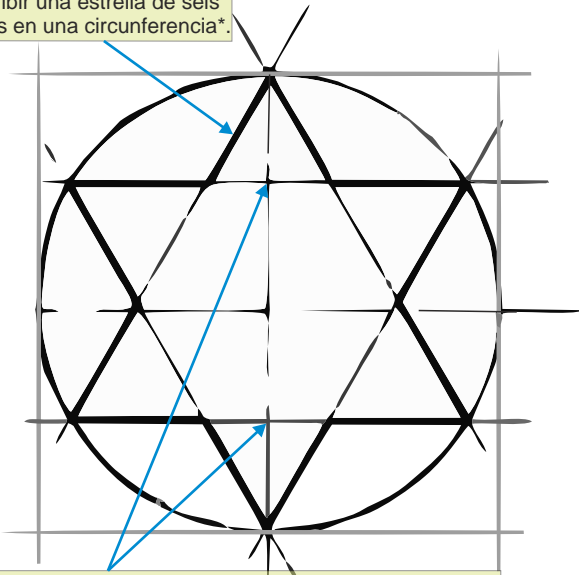
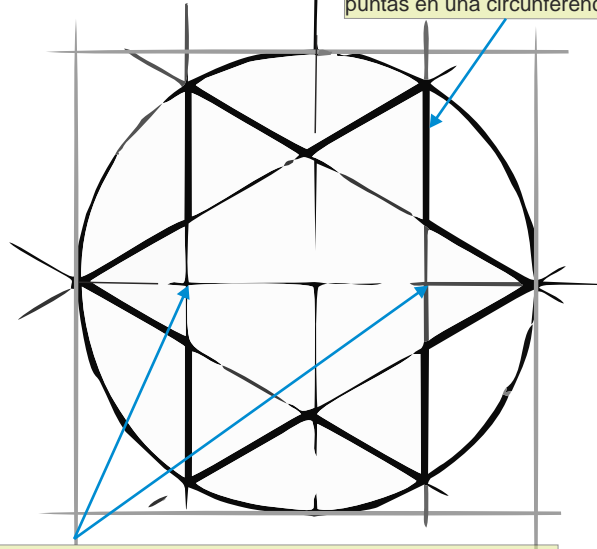


Inscribir una estrella de seis puntas en una circunferencia\*.



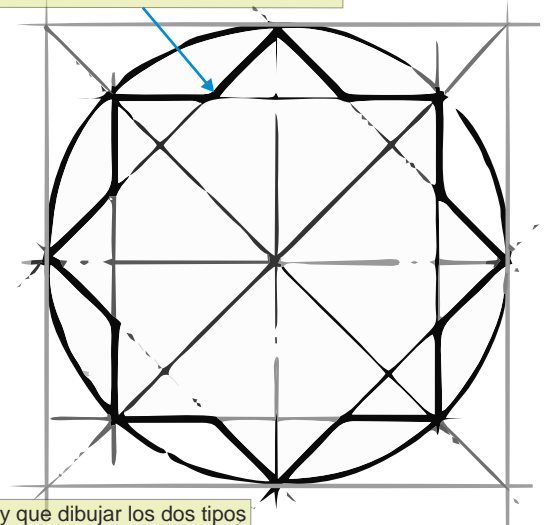
\*Dividir cada semieje vertical en 2 partes iguales y trazar horizontales para hallar los puntos en la circunferencia.

Inscribir una estrella de seis puntas en una circunferencia\*.



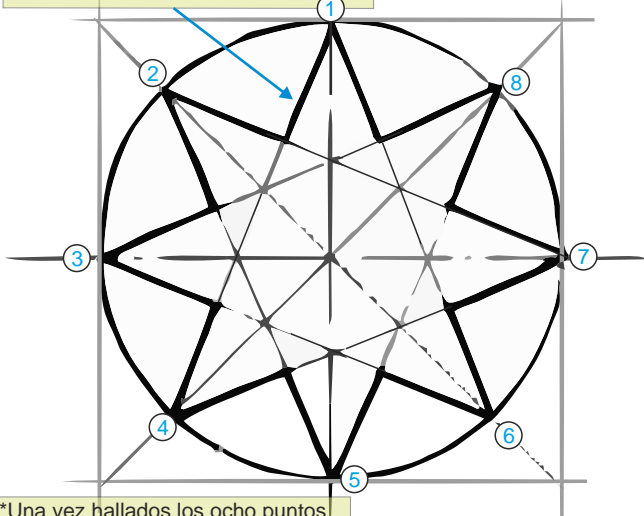
\*Dividir cada semieje horizontal en 2 partes iguales y trazar verticales para hallar los puntos en la circunferencia.

Inscribir una estrella de ocho puntas en una circunferencia\* (1).



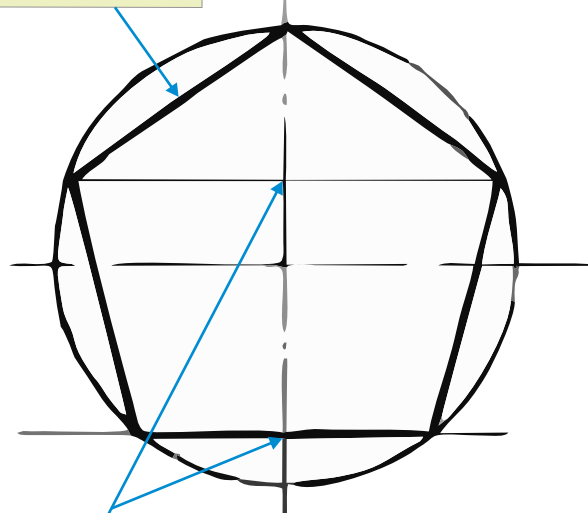
\* Hay que dibujar los dos tipos de cuadrados inscritos y resaltar sólo el borde exterior.

Inscribir una estrella de ocho puntas en una circunferencia\* (2).



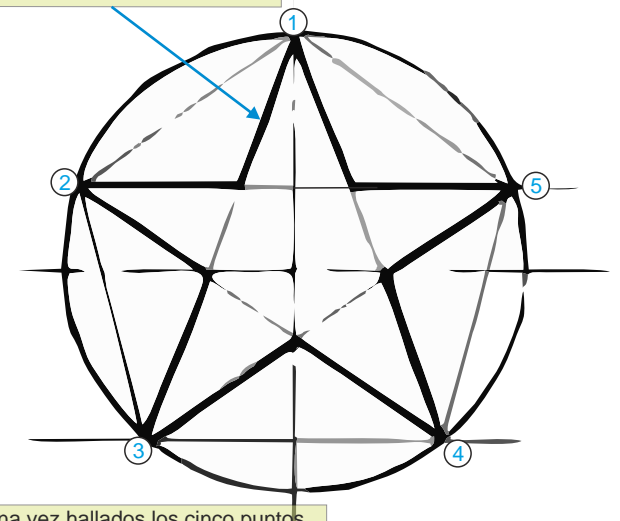
\*Una vez hallados los ocho puntos en la circunferencia, se deben unir contando de cuatro en cuatro.

Inscribir un pentágono en una circunferencia\*.



\*Hay que dividir el semieje vertical superior en tres partes y en inferior en cuatro, aproximadamente.

Inscribir una estrella de cinco puntas en una circunferencia\*.



\*Una vez hallados los cinco puntos en la circunferencia, se deben unir saltando uno.