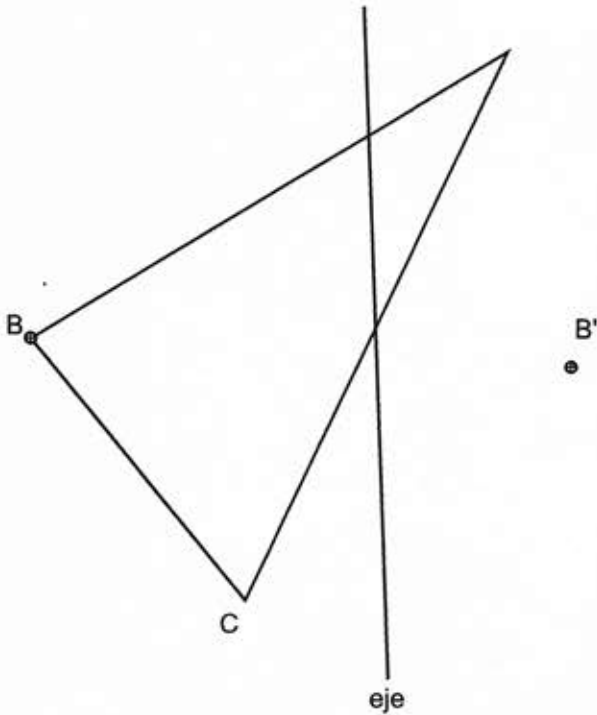
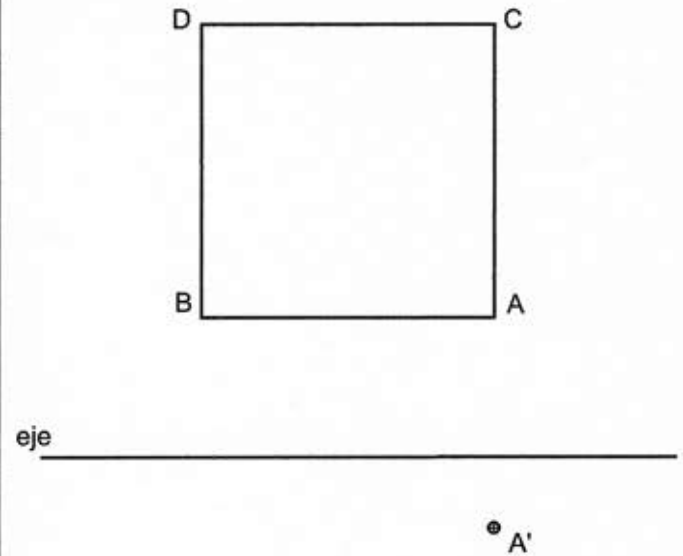


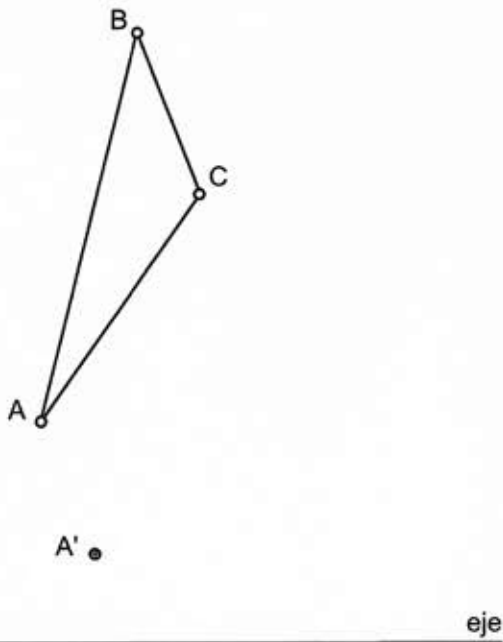
Determina el triángulo $A'B'C'$ afín al triángulo ABC dado.
 Datos: triángulo ABC , punto B' afín de B y eje de afinidad.



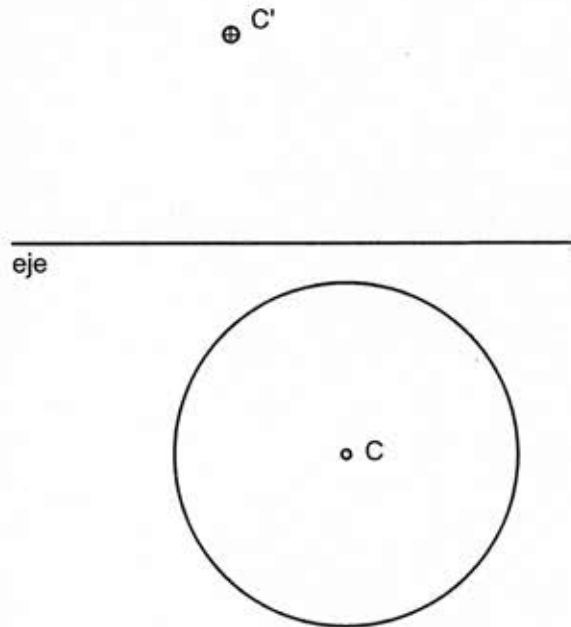
Traza el cuadrilátero afín, $A'B'C'D'$, conocido el par de puntos afines AA' .



Traza el cuadrilátero afín, $A'B'C'$, conocido el par de puntos afines AA' .



Traza la figura afín de la circunferencia dada, conociendo el eje de afinidad, su centro C y su afín C' .



Apellido Apellido, Nombre

Fecha

Nº Lista y grupo

LASLAMINAS.ES

Título de la lámina

AFINIDAD (2):
 Problemas básicos.